

中学2年 社会科 歴史

組 番 (月 日)

16:大航海時代・鉄砲伝来・キリスト教伝来

名前

基本問題

資料1



資料2



資料3



資料4



資料5



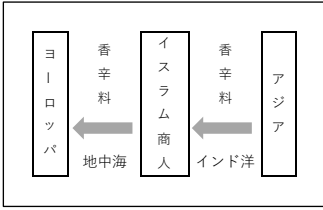
京都大学附属図書館蔵

- ① 15世紀から17世紀において、ヨーロッパ人による新航路の開拓や海外進出が続いたこの時代を何というか。
- ② カトリック国であり、また、①の先駆けとなったヨーロッパの国はどこどこか。2つ書きなさい。
- ③ 1492年、スペインの援助を受けてインドを目指して大西洋を西へ進み、アメリカ大陸付近の島に到達した資料1の人物だれか。
- ④ ③の人物が到達したアメリカ大陸に連なる島々は現在何とよばれるか。
- ⑤ 1498年、大西洋を南下し、アフリカ南端を回ってインドへ着く航路を発見した資料2の人物はだれか。
- ⑥ ⑤の人物がインドへ到達する航路を開いた際に通過した、アフリカ大陸最南端の岬を何というか。
- ⑦ 1522年、世界一周を達成したスペインの船隊を率いた資料3の人物はだれか。
- ⑧ 17世紀に、オランダがバタビア（ジャカルタ）を本拠地にしてアジアで貿易をするために設立した会社を何というか。
- ⑨ 1543年、種子島（鹿児島県）に流れ着いたポルトガル人が日本に伝えたものは何か。
- ⑩ 1549年に鹿児島に上陸し、日本にキリスト教を伝えたイエズス会の宣教師である資料4の人物はだれか。
- ⑪ 大名の中で、キリスト教の信者になった大名は何とよばれるか。
- ⑫ 1582年、⑪の大名であった大友宗麟らがキリスト教信者の少年4人（資料5）をローマ教皇のもとへ派遣した。この使節は何とよばれるか。
- ⑬ キリスト教の布教や貿易のために来た②の国々の人たちとおこなった貿易は何とよばれるか。
- ⑭ ⑬の貿易で多くのものが日本に伝わる一方で、日本からは大量のXが持ち出された。Xにあてはまるものは何か、次の【 】から1つ選んで書きなさい。 【 ガラス製品 銀 生糸 香辛料 】

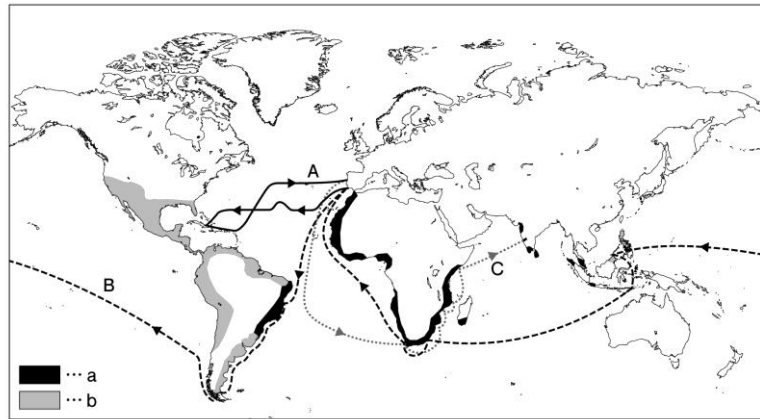
①	②	③
④	⑤	⑥
⑧	⑨	⑩
⑫	⑬	⑭

発展問題

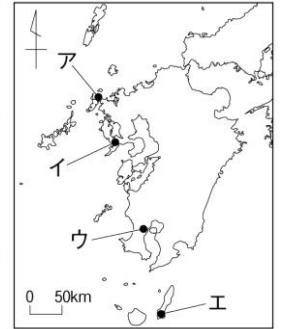
資料1



資料2 (16世紀ごろの世界)



資料3



- ① ヨーロッパの人々が、危険の多い航海をしてまで新たな航路を開こうとしたのは、資料1の構図を変えたかったからである。どのように変えたかったのか、資料1を参考にして書きなさい。
- ② 資料2中 a、b はそれぞれこの国の領土であるか。次の【 】の中から国名をそれぞれ選んで書きなさい。
【 イギリス オランダ スペイン ドイツ フランス ポルトガル 】
- ③ ほかの国に支配され、政治や外交などの権利を奪われた地域を何というか。
- ④ 資料2中の A、B、C の航路で航海をした人物をそれぞれ書きなさい。
- ⑤ ヨーロッパ人がアメリカ大陸に進出すると、大農園を運営するために先住民を働かせたが、伝染病や厳しい労働によって彼らの人口が激減してしまった。そこで、労働人口を確保するためにヨーロッパの国々はどのようなことをしたか。「アフリカ」の語句を使ってその内容を書きなさい。
- ⑥ 1543年にポルトガル人が日本に鉄砲を伝えた場所はどこか。資料3中のア～エから1つ選び、記号で答えなさい。
- ⑦ 日本に鉄砲が伝わると、日本では鉄砲の国産化に成功した。のちに鉄砲を大量生産するようになった、現在の大阪府と滋賀県にあった生産地をそれぞれ書きなさい。
- ⑧ 1549年にフランシスコ・ザビエルがキリスト教を伝えるために日本に来た時、最初に上陸した場所はどこか。資料3中のア～エから1つ選び、記号で答えなさい。
- ⑨ フランシスコ・ザビエルが日本にキリスト教を伝えに来たのは、どのような理由があったからか。「宗教改革」、「プロテスタント」、「イエズス会」の語句を使って書きなさい。

①			
②	a	b	③
④	A	B	C
⑤			
⑥	⑦	⑧	
⑨			